



PRUEBA DE ACCESO A CICLOS FORMATIVOS

HEZIKETA ZIKLOETARA SARTZEKO FROGA

JUNIO 2009 / 2009KO EKAINA

GOI MAILAKO ZIKLOAK / CICLOS DE GRADO SUPERIOR

ARLO ESPEZIFIKOA / PARTE ESPECÍFICA

**DIBUJO TÉCNICO
MARRAZKETA TEKNIKOA**

**Abizenak
Apellidos**

**Izena
Nombre**

**Ordena Zkia.
Nº orden**

**Lurraldea
Territorio**

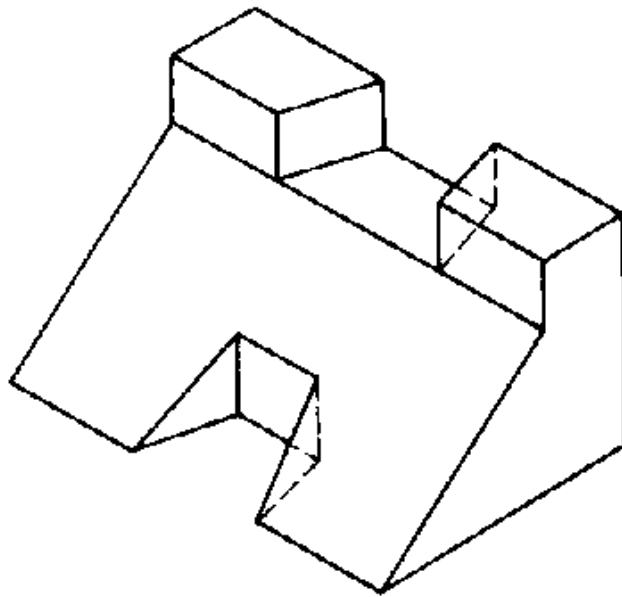
**N.A.N.
D.N.I.**

**Adina
Edad**

**Ikastetxea
Centro**

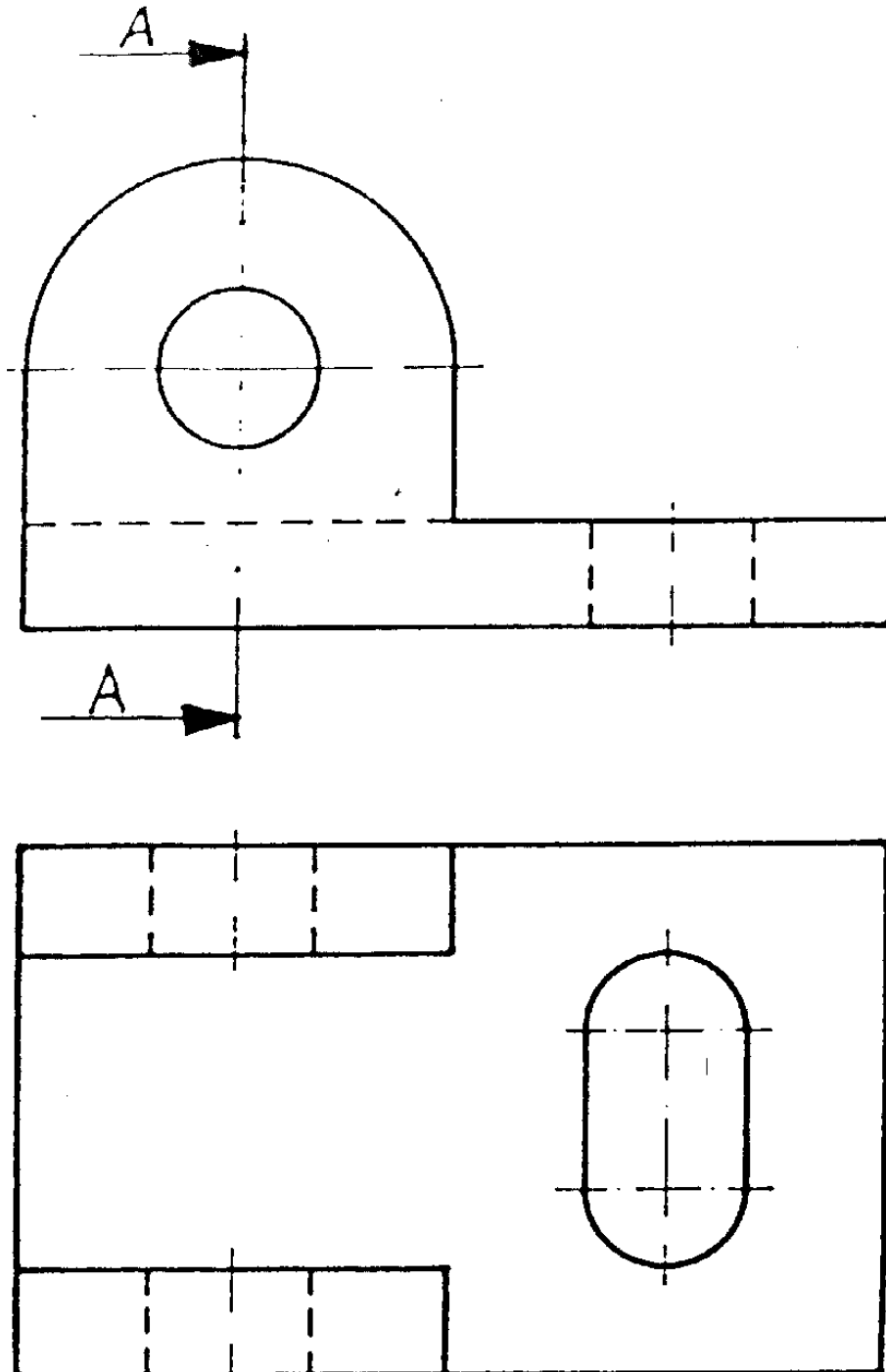
1. Pieza honen aurretiko, goiko eta aldameneko bistak atera (2,5 p). Marrazketa eskuz egin, erregela erabili gabe.

Dibuja el alzado, la planta y el perfil de la siguiente pieza. (2,5 p). Realiza el dibujo a mano alzada, sin la ayuda de reglas.



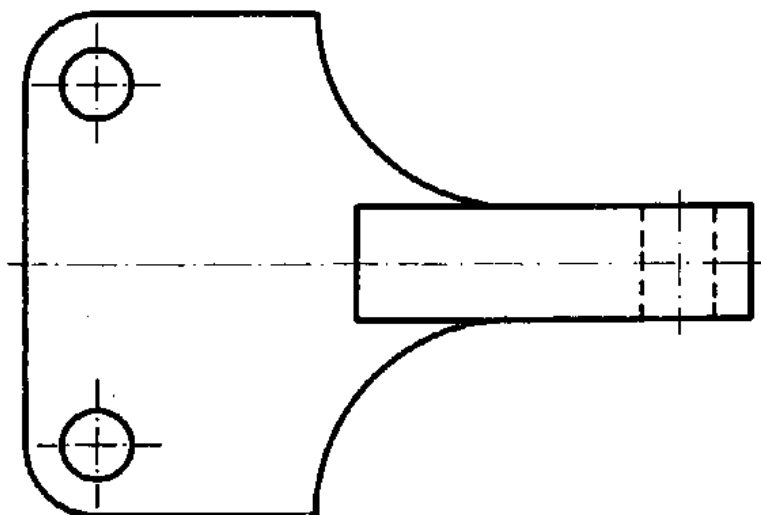
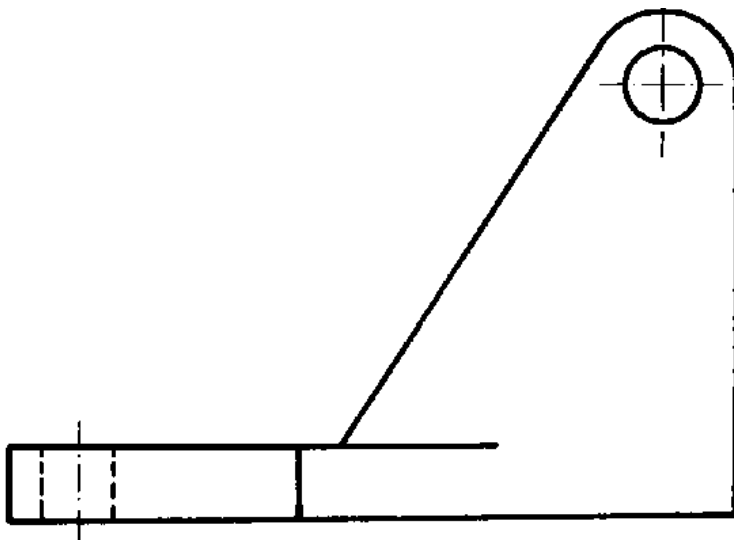
2. Marrazkian adierazten den ebakidura egin.(2,5 p).

Representa el corte indicado en el dibujo. (2,5 p).



3. Hurrengo pieza akotatu. Marrazkia 1:1 eskalan dago (2,5 p)

Acota la siguiente pieza. El dibujo está a escala 1:1 (2,5 p)



4. Proiektzio ortogonalean errepresentaturiko pieza hau, 1:1 eskalan dago, CAVAGLIERI perpektiba marraztu. Erredukzio-koefiziente = 0,5 eta $\alpha = 45^\circ$ (2,5 p)
Esta pieza representada en proyección ortogonal está en escala 1:1, dibuja la perspectiva CABALLERA. Coeficiente reductor = 0,5 y $\alpha = 45^\circ$ (2,5 p)

