



**PRUEBA DE ACCESO A CICLOS FORMATIVOS DE GRADO SUPERIOR
CONVOCATORIA 2008**

Resolución de 30 de enero de 2008, (« BORM »de 22 de febrero de 2008)

DATOS DEL ASPIRANTE	CALIFICACIÓN PARTE ESPECÍFICA OPCIÓN T1- Dibujo Técnico
Apellidos: Nombre: D.N.I./N.I.E./Pasaporte: Fecha de nacimiento: <p style="text-align: center;">IES Miguel de Cervantes</p>	Calificación numérica: Exento: <input type="checkbox"/>

INSTRUCCIONES GENERALES

- Mantenga su DNI., o documento alternativo en caso de aspirantes sin nacionalidad española, en lugar visible durante la realización del ejercicio.
- Lea detenidamente los textos, cuestiones o enunciados antes de responder.
- Realice primero los ejercicios que le resulten más sencillos y deje para el final aquellos en los que tenga dudas.
- Cuide la presentación, escribiendo el proceso y la solución de forma ordenada.
- Una vez acabada la prueba, revísela meticulosamente antes de entregarla.
- No está permitida la utilización ni la mera exhibición del teléfono móvil. Tampoco está permitida la utilización de ningún otro dispositivo de telecomunicación.

REALIZACIÓN Y DESARROLLO DE LA PRUEBA

PARTE ESPECÍFICA:

- De 16,30 h. a 18´30 h. (Opción T1) – Dibujo Técnico

CRITERIOS PARA OBTENER LA CALIFICACIÓN FINAL

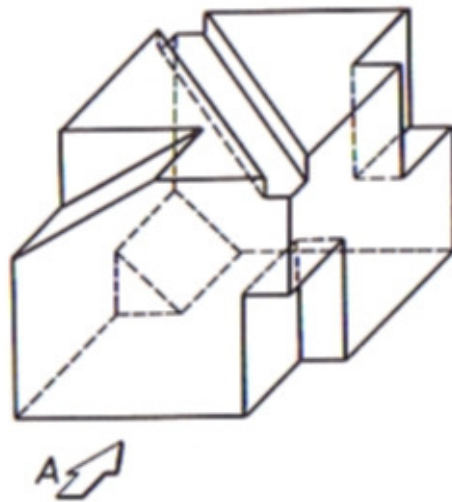
- El criterio de puntuación general a utilizar para la calificación de cada ejercicio es el comprendido entre cero y diez puntos, teniendo en cuenta los criterios específicos de evaluación y calificación expresados en el enunciado de cada uno.
- La Calificación Global de la Prueba se obtendrá por media aritmética de las dos partes (Común y Específica), siempre y cuando se haya alcanzado al menos la puntuación de cuatro en cada una de ellas, o de Exento y Apto, en una y otra parte, en su caso, o Exento en ambas. Cuando el aspirante deba realizar una sola de las partes, por exención de la otra, la Calificación Global será la obtenida en la misma. **Se considerará Apto al aspirante cuando la Calificación Global obtenida sea de cinco o más puntos.**



DATOS DEL ASPIRANTE		CALIFICACIÓN DEL EJERCICIO DE DIBUJO TÉCNICO – OPCIÓN T1	
Apellidos: Nombre: D.N.I./N.I.E./Pasaporte nº:		Calificación numérica	

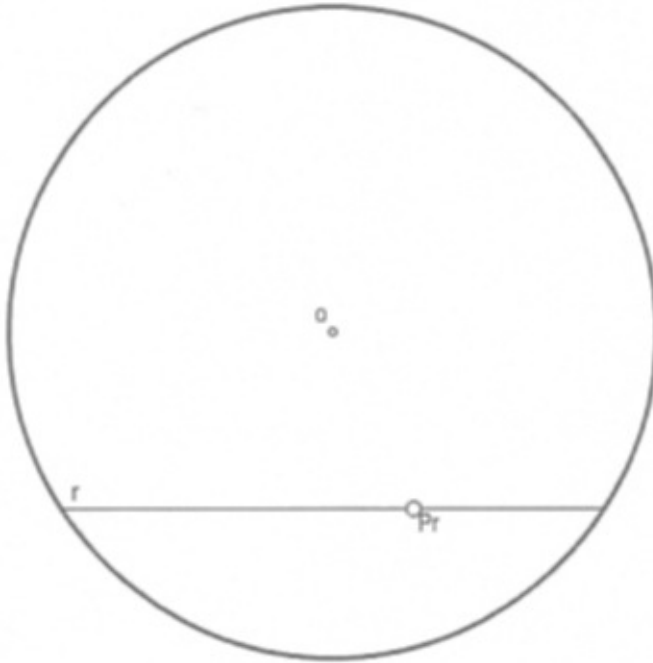
PARTE ESPECÍFICA: DIBUJO TÉCNICO – Duración 2 horas

1º.- Se da una pieza en perspectiva. Determinar las tres vistas diédricas necesarias para definirla. No se establece escala de trabajo y se podrá operar a mano alzada o si se desea con instrumentos. Cuidese la proporción, correspondencia y la representación de aristas ocultas.



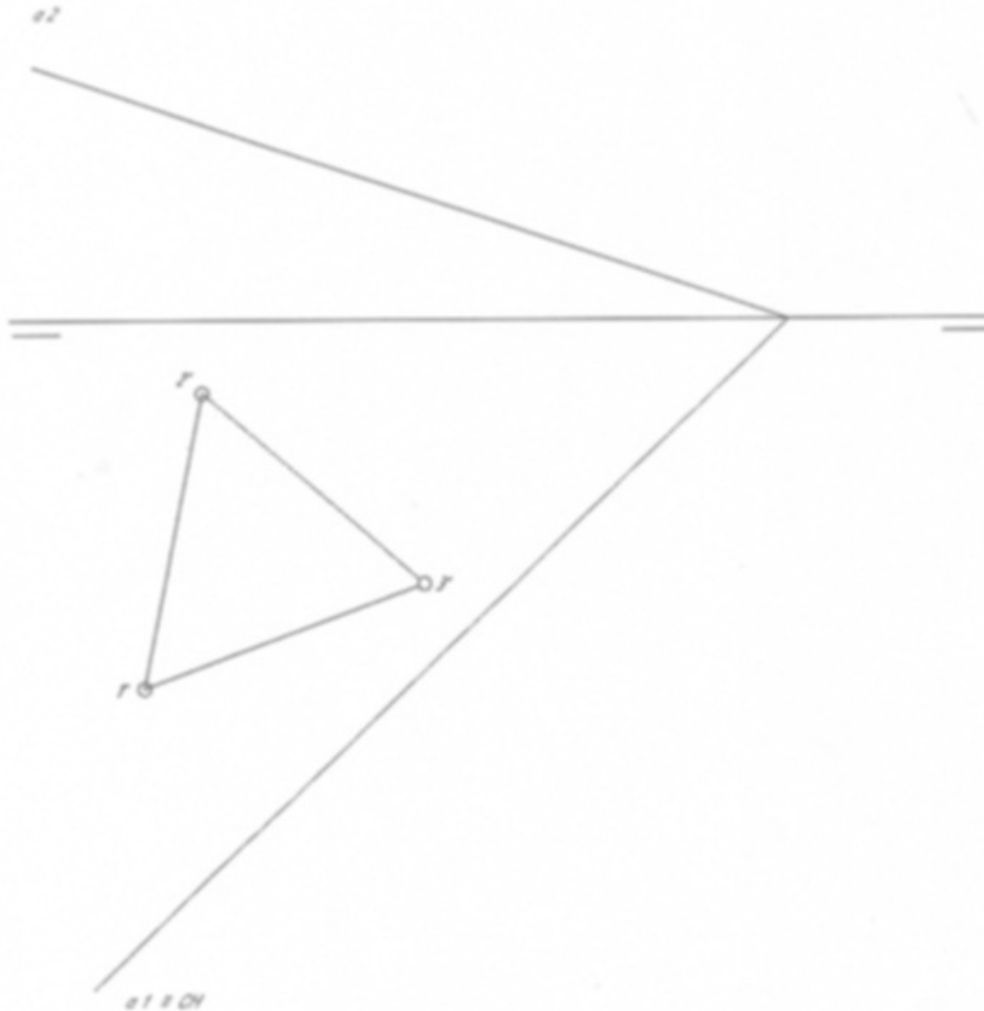


2.- Dibujar las circunferencias tangentes a otra y a una recta en un punto Pr de ésta. Hallar después el cuadrado equivalente a la suma de las áreas de los dos círculos soluciones.





3º.- En la figura se define un tetraedro apoyado en el plano de proyección horizontal, mediante la proyección horizontal de una de sus caras. Determinar sus proyecciones horizontal y vertical. Obtener posteriormente en proyección y verdadera magnitud la sección producida por el plano alfa.





CRITERIOS DE CALIFICACIÓN:

La calificación máxima para cada ejercicio será de 10 puntos, repartidos de la siguiente manera:

- 7 puntos por la corrección y precisión de la solución obtenida.
- 3 puntos por el nivel de acabado conseguido.

La calificación final de la prueba será la media aritmética de los tres ejercicios planteados.