

<b>PRUEBA ACCESO A CICLOS FORMATIVOS DE GRADO SUPERIOR</b>	Septiembre 2012 OPCIÓN A: GEOGRAFÍA
--	--

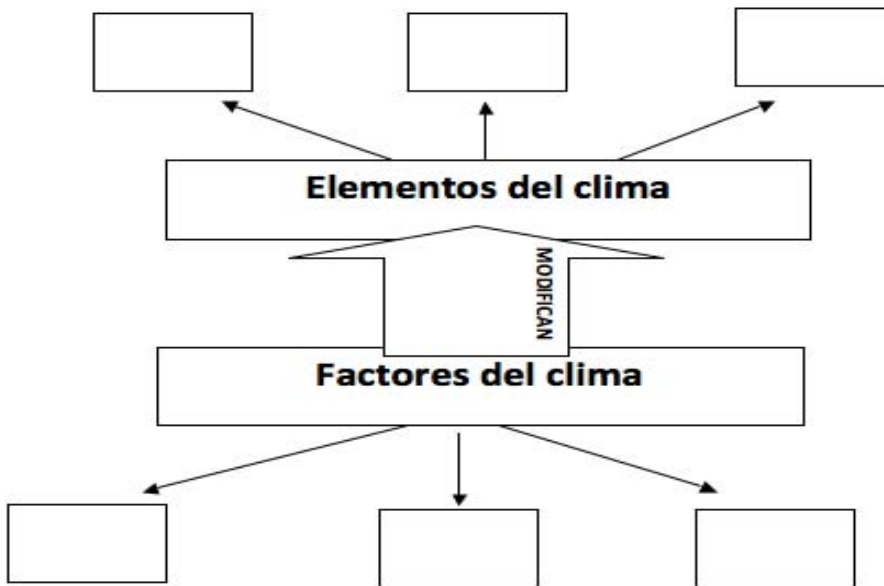
DATOS DEL ASPIRANTE		CALIFICACIÓN PRUEBA
Apellidos:		Nombre:
D.N.I. o Pasaporte:	Fecha de nacimiento:	/ /

**Instrucciones:**

- **Lee atentamente las preguntas antes de contestar.**
- **La puntuación máxima de cada pregunta está indicada en cada enunciado.**
- **Revisa cuidadosamente la prueba antes de entregarla.**

**1.** Analiza el esquema que se presenta a continuación sobre los factores y elementos del clima y complétalo según corresponda. (3 puntos)

**A.** En cada una de las casillas en blanco debes escribir un solo elemento o factor, aquellos que consideres de más relevancia. (1,5 puntos)



**B. Explica** en qué consisten los tres factores que hayas escrito (1,5 puntos)

.....

.....

.....

.....

.....

.....



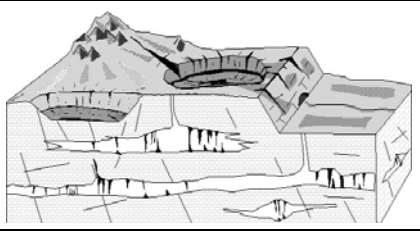
.....

.....

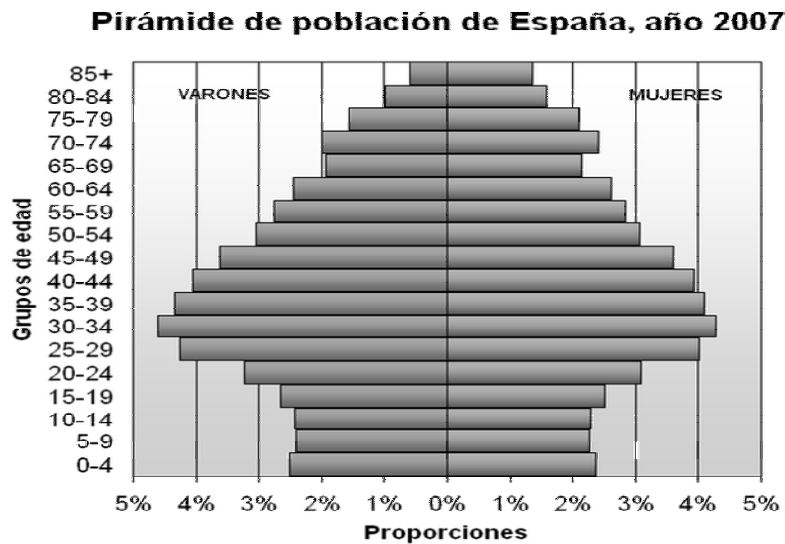
.....

.....

**2. Observa** las tres imágenes que representan los distintos tipos de modelado de relieve que se dan en la Península Ibérica y **nombre** cada uno de ellos: (1,5 puntos)

		
Tipo 1	Tipo 2	Tipo 3

**3. Observa y analiza** la pirámide española de población que corresponde al año 2007 y contesta las siguientes cuestiones: (2,5 puntos)



**A. Expón dos razones** que expliquen porqué en la cúspide la pirámide se da una diferencia acusada entre hombres y mujeres. (1 punto)

.....

.....

.....

.....

.....

**B. ¿Qué grupo de edad es más numeroso? ¿A qué momento histórico corresponde?** (1 punto)

.....

.....




**C. ¿Qué consecuencias para la sociedad española tiene el que la base sea tan estrecha?** (0,5 puntos)

.....

.....

.....

4. **Observa** las imágenes que representan los distintos tipos de planos y **escribe el nombre** que corresponda: (1,5 puntos)

TIPO 1	TIPO 2	TIPO 3
		

.....  
 .....  
 .....

5. **Relaciona** cada uno de los siguientes conceptos relativos a actividades económicas con su respectiva definición: (1,5 puntos)

Latifundios	Comercio minorista	Balanza comercial
Ganadería avícola	Industrias de bienes de consumo	Minifundios

Concepto	Definición
	Son propiedades pequeñas (menos de 10 ha.) que se dan sobre todo en el norte (especialmente Galicia) y en la zona del Levante. Suelen tener bajos niveles de productividad ya que su pequeño tamaño dificulta sobremanera su mecanización.
	Actividad destinada a la producción de carne y de huevos, predominantemente intensiva e industrial.
	Son aquellas industrias cuya fabricación va destinada directamente al consumidor.
	Es la diferencia entre las exportaciones y las importaciones
	Compra los productos a los mayoristas y los vende directamente al consumidor.
	Son grandes propiedades (más de 100 ha.) y predominan en Andalucía, Extremadura, Aragón y Castilla la Mancha. Tradicionalmente estos latifundios están relacionados con cultivos extensivos, bajos rendimientos y un alto número de mano de obra.