

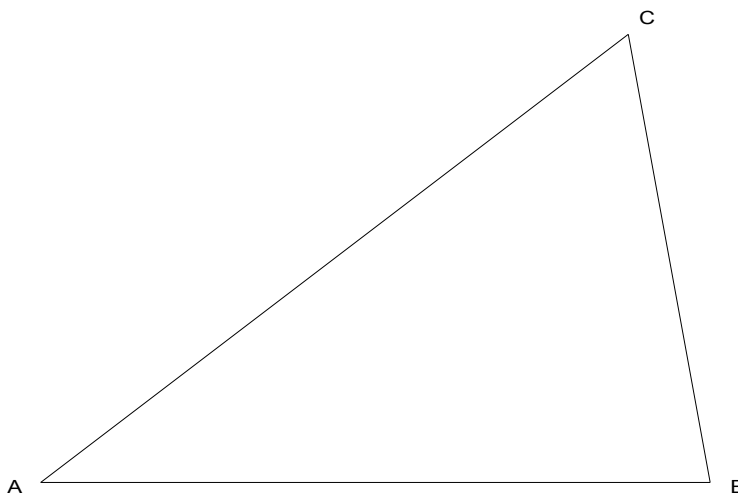


2 TANGENCIAS TANGÈNCIES

- 2.a) Dibuja una circunferencia de radio **30 mm**, tangente a la recta **t** en el punto **A**.
- 2.a) *Dibuixa una circumferència de radi **30 mm**, tangent a la recta **t** en el punt **A**.*




- 2.b) Dibuja una circunferencia circunscrita al triángulo **ABC**.
- 2.b) *Dibuixa una circumferència circumscribita al triangle **ABC**.*





3 SISTEMA AXONOMÉTRICO SISTEMA AXONOMÈTRIC

- 3.a) Dibuja la perspectiva isométrica de la figura dada por sus vistas. E 2:1
3.a) *Dibuixa la perspectiva isomètrica de la figura donada per las seves vistes. E 2:1*



- 3.b) ¿Qué ángulos forman los ejes en la perspectiva isométrica?
3.b) *Quin angle formen els eixos en perspectiva isomètrica?*



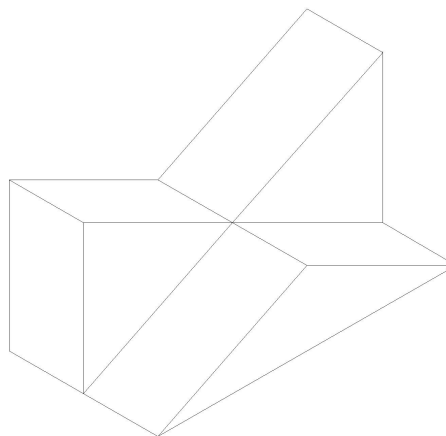
4 CROQUIS Y ACOTACIÓN CROQUIS I ACOTACIÓ

4.a) Dibuja las vistas de la figura dada en perspectiva.

4.a) *Dibuixa les vistes de la figura donada en perspectiva.*

4.b) Acota las vistas anteriores.

4.b) *Acota les vistes anteriors.*





5 ESCALAS ESCALES

5.a) Dibuja la escala gráfica **1:20**.

5.a) *Dibuixa l'escala gràfica **1:20**.*

5.b) En un dibujo hecho a escala **1:200** la distancia entre dos puntos es de **3 cm**
¿Cuántos metros mide en realidad esa distancia?

5.b) *En un dibuix fet a escala **1:200** la distància entre dos punts és de **3 cm**. Quants metres té, en realitat, aquesta distància?*