



Govern de les Illes Balears

Conselleria d'Educació, Cultura i Universitats
Direcció General d'Ordenació,
Innovació i Formació Professional

PRUEBAS DE ACCESO A GRADO SUPERIOR

Convocatoria mayo 2014

VERSIÓN EN CASTELLANO

INSTRUCCIONES DE LA PRUEBA

- Dispone de **1 hora** para realizar la prueba.
- El examen se debe presentar **escrito en bolígrafo** de tinta **AZUL** o **NEGRA**, en ningún caso se puede presentar a lápiz.
- **No** se pueden usar **teléfonos móviles** ni **aparatos electrónicos**.
- **No** se puede entrar al aula con **textos o documentos escritos**.

DATOS PERSONALES DEL ALUMNO

Nombre:

Apellidos:

D.N.I. o N.I.E.:

--	--	--	--	--	--	--	--	--	--

Calificación:

Firma del alumno:

¡Buena Suerte!

1.- Los mapas representan la realidad con un tamaño menor, es decir, están hechos a escala.

- a) Explica qué es la escala (0'3 puntos) y los tipos de escala que se utilizan en los planos y los mapas (0'4 puntos).
- b) La escala numérica 1:100.000, ¿A cuántos kilómetros de la realidad equivale? Realiza el planteamiento en la hoja del examen. (0'3 puntos)

2.- Responde a las siguientes cuestiones:

- a) Enumera, de norte a sur, cuatro ríos de la vertiente mediterránea. (0'4 puntos)
- b) Explica el régimen fluvial de los ríos de la vertiente mediterránea y justifica las causas del comportamiento de su caudal. (0'6 puntos)



3.- Cita 10 países que forman parte de la Unión Europea y sus correspondientes capitales.

PAÍS	CAPITAL	PAÍS	CAPITAL
1.-		6.-	
2.-		7.-	
3.-		8.-	
4.-		9.-	
5.-		10.-	

4.- Comunidad Autónoma de las Illes Balears.

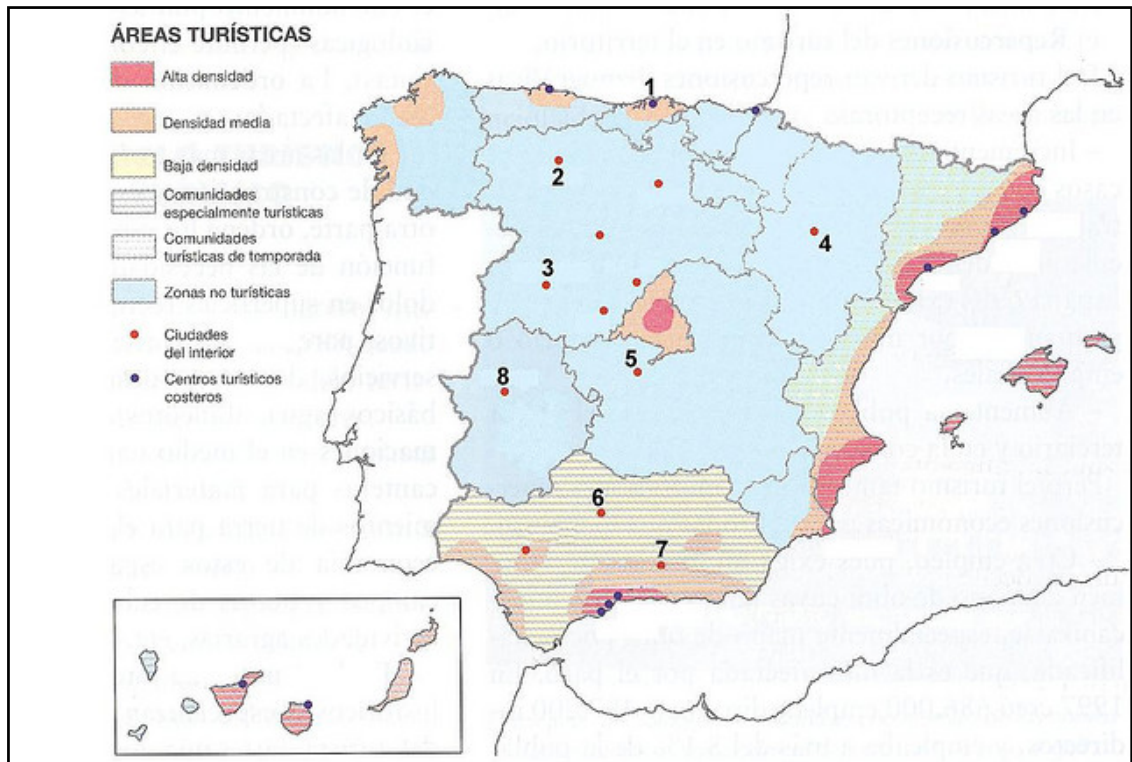
- a) Explica la situación geográfica de las Illes Balears (latitud, longitud, punto cardinal, etc.), respecto a otros lugares de referencia, por ejemplo: el globo terráqueo, Europa, la Península Ibérica, España, el mar Mediterráneo, el Mundo económico, etc. Utiliza todos los términos que puedas para argumentar sobre su situación y las consecuencias que se derivan. (0'6 puntos)
- b) Cita la capital de: (0,1 punto por pregunta correcta)
 - Mallorca: _____
 - Menorca: _____
 - Eivissa: _____
 - Formentera: _____

5.- Sectores económicos.

- a) Define sector económico. (0'3 puntos)
- b) Los sectores económicos son: (0,2 puntos)
 primario; _____ y _____
- c) ¿Qué función desarrolla el sector primario? (0'2 puntos)
- d) ¿Qué actividades económicas se incluyen dentro del sector primario? (0'3 puntos)

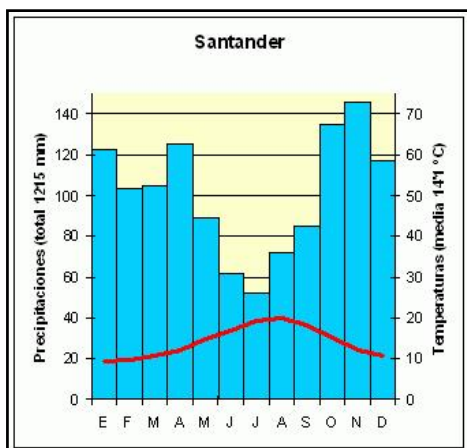
6.- Observa el mapa de las áreas y regiones turísticas de España y realiza el comentario contestando las siguientes cuestiones:

- a) Nombra las provincias con alta densidad turística e indica qué tipo de turismo predomina en cada una de ellas. (0'4 puntos)
- b) Distingue, en el mapa adjunto, las áreas con mayor desarrollo de las modalidades turísticas que no sean de sol y playa. Explica los contrastes entre las áreas turísticas atlánticas y las mediterráneas. (0'6 puntos)



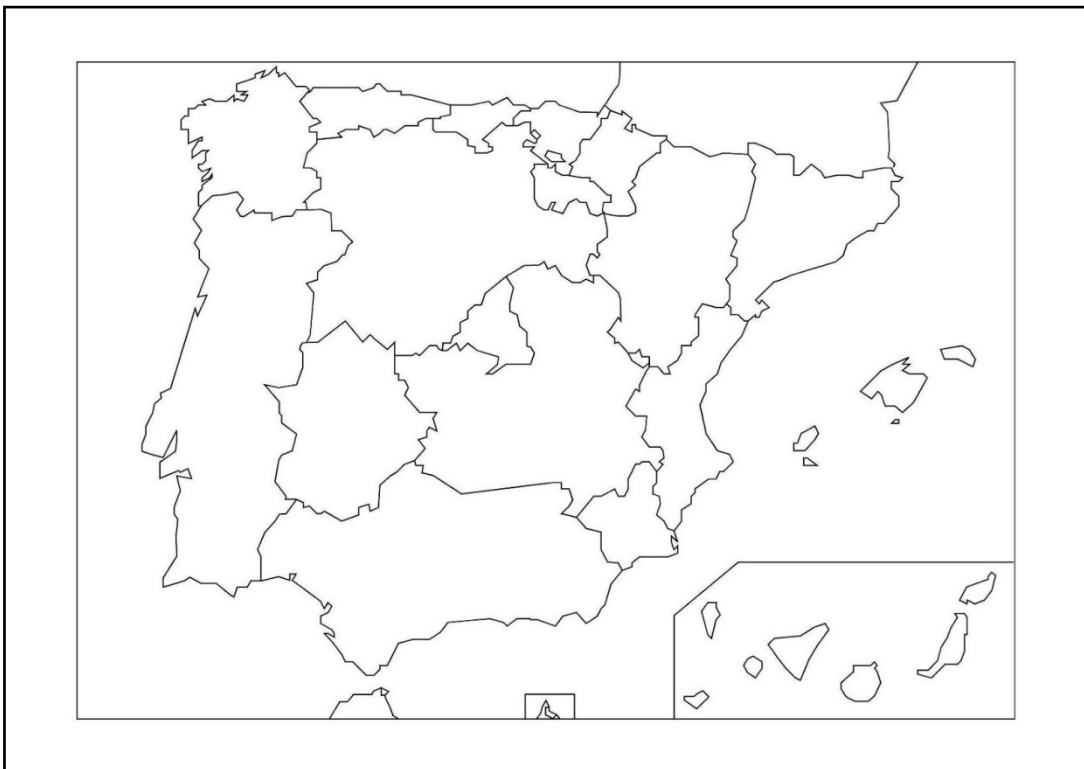
7.- La España verde corresponde a la franja noroeste de la Península Ibérica. A partir del siguiente climograma contesta las cuestiones:

- ¿Qué clima le corresponde? _____ . (0'1 puntos)
- Características de este dominio climático: precipitaciones, temperaturas, cambios estacionales y amplitud térmica. (0'5 puntos)
- Menciona tres comunidades autónomas que presentan este tipo de clima: (0,1 puntos por pregunta)
 - _____
 - _____
 - _____
- Cita uno de los sistemas montañosos de esta zona _____ (0,1 puntos)



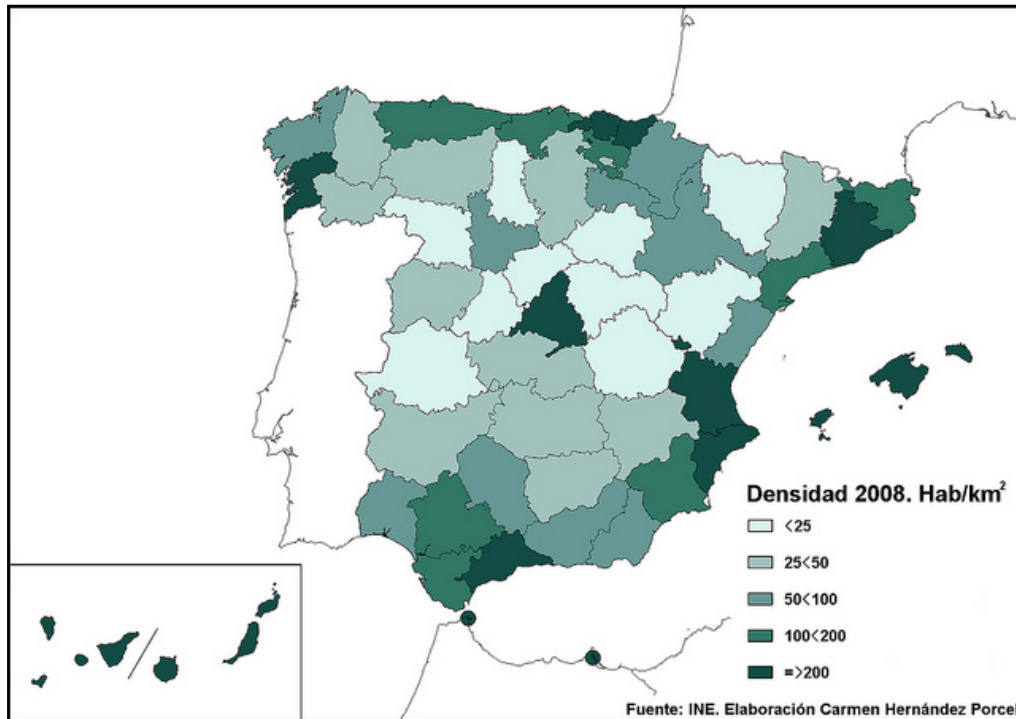
8.- Según la Constitución española de 1978, España es el Estado de las Autonomías.

- a) Localiza y escribe el nombre, sobre el mapa, de las comunidades autónomas que tienen frontera con Portugal (0'4 puntos)
- b) ¿Qué comunidades autónomas fueron las primeras en tener Estatuto propio? (0'3 puntos)
- c) ¿Cuáles son las dos instituciones básicas autonómicas de toda nuestra Comunidad Autónoma? (0'2 puntos)
- d) ¿Cómo se llama la institución propia de gobierno de cada una de las cuatro islas mayores de las Illes Balears? (0'1 puntos)



9.- El código penal español tipifica el “*delito ecológico*”. Explica en qué consiste y pon ejemplos de él y de acontecimientos recientes que se puedan tipificar como tal. (1 punto)

10.- La densidad de población, en el territorio español, se encuentra desigualmente distribuida por provincias. Interpreta el mapa de 2008 contestando las siguientes cuestiones:



- a) Defina el concepto de densidad de población. (0'2 puntos)
b) ¿Qué provincias están más pobladas y dónde se localizan? (0'3 puntos)

- 1.
- 2.
- 3.
- 4.
- 5.
- 6.
- 7.
- 8.
- 9.
- 10.
- 11.
- 12.
- 13.

- c) ¿Qué diferencia hay entre las densidades de las provincias del interior y las de la periferia? (0'2 puntos)
d) Explica las causas de esta asimetría y las excepciones. (0'3 puntos)